

Geografické rébusy



Na základe nasledujúcich rébusov uhádnite pomenovania jednotlivých povrchových útvarov, miest a obcí.

Interpunkčné a diakritické znamienka či skloňovanie slov nie sú podstatné.


<https://pixabay.com/sk/>

Pomôcka: rod rýb z čeľade kaprovité

Rieka v Rusku

A

+



<https://pixabay.com/sk/>

Druhé najvyššie pohorie sveta

K



O




<https://pixabay.com/sk/>

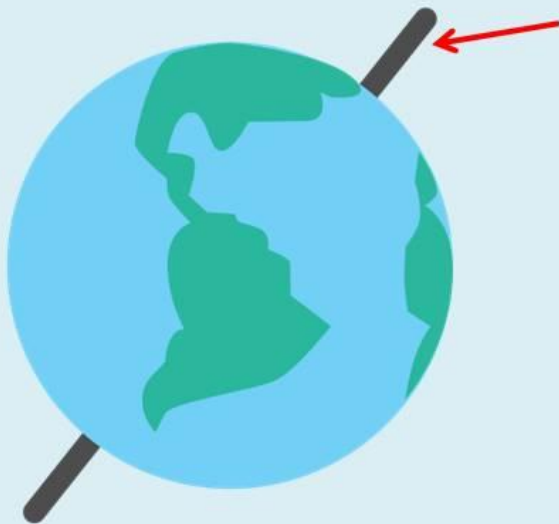


<https://pixabay.com/sk/>

Hlavné mesto jedného ázijského štátu



<https://pixabay.com/sk/>



<https://www.clipart.email/>




<https://pixabay.com/sk/>

<https://pixabay.com/sk/>

Bonus!

Nasledujúce obrázky súvisia
s jedným európskym štátom.

Uhádni, o aký štát ide?



Zdroj: <https://pixabay.com/sk/>



Pokračovanie
nabudúce 😊

Zdroj obrázkov: Pixabay, Google Maps, Clipart.email